



MERSİN - TARSUS

ASHABI KEHF ANADOLU İMAM HATİP LİSESİ

OKULA KABUL SINAVI

ÖRNEK SORU KİTAPÇIĞI-1

SINAVLA İLGİLİ UYULACAK KURALLAR

1. Cevap kağıdına soru kitapçığı türünü yazmayı unutmayınız.
2. Her soru eşit değerde olup, puanlama yapılırken doğru cevaplarınızın sayısından yanlış cevaplarınızın üçte biri düşülecektir.
3. Sınavda pergel, cetvel, hesap makinesi gibi yardımcı araçlar ve müsvedde kağıt kullanımı yasaktır. Tüm işlemlerinizi soru kitapçığı üzerinde yapılıacaktır.
4. Sınav süresince görevlilerle konuşulmayacak ve onlara soru sorulmayacaktır.
5. Dışarıya çıkan aday tekrar sınava alınmayacaktır.
6. Cep telefonuyla sınava girmek yasaktır.
7. Soru kitapçığını sınıfta teslim etmeyi unutmayınız.

BAŞARILAR DİLERİZ

1. “En çok sevdiğim yemekler şunlardır”

Cümlesinin sonuna hangi noktalama işareti konmalıdır?

- A) Nokta
- B) İki nokta
- C) Üç nokta
- D) Virgül

2. **Aşağıdaki cümlelerin hangisinde sebep sonuç ilişkisi vardır?**

- A) Ahmet çantasını annesine verdi.
- B) Erzurum soğuk bir şehirdir.
- C) Güzel hikâyeler yazdığı için ödül aldı.
- D) Ahmet ile Mehmet uçurtma uçuruyor.

3. **Aşağıdakilerden hangisi öznel bir cümledir?**

- A) Şairin dizeleri herkesin içini ısıtıyor.
- B) İstanbul nüfusu gün geçtikçe artıyor.
- C) Yağmur üç gündür aralıksız devam ediyor.
- D) Nüfusu en fazla olan şehrimiz İstanbul'dur.

4. **Aşağıdaki cümlelerin hangisinde mecazlı bir anlatım yoktur?**

- A) Bademlerin çiçek açması, baharın geldiğini gösterir.
- B) Benimle yarışmak yürek ister.
- C) Arkadaşımın mutluluğu gözünden okunuyordu.
- D) Sevinçten ağzı kulaklarındaydı

5.

Kır saçlı bilim adamı mikroskop ile hayvan hücresini inceliyordu. Bu sırada kapı çaldı. Bilim adamı isteksiz bir şekilde kapıyı açtı. Gelen bilim adamının yardımcısıydı. Bilim adamı yardımcısını soğuk karşıladı. Çünkü bilim adamı çalışırken rahatsız edilmeyi hiç sevmezdi.

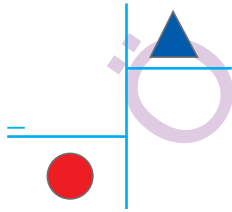
Bu parçada aşağıdakilerden hangisi yoktur?

- A) Deyim
- B) Eş sesli sözcük
- C) Terim anlamlı sözcük
- D) Mecaz anlamlı sözcük

1. Ahmet, Zeynep ve Tuğrul'un okul numaraları sırasıyla 789, 302, 400 olduğuna göre, **bu üç arkadaşın okul numaralarını sırasıyla söyleyerek oluşturacakları dokuz basamaklı ve milyonlar bölümü çift olan en büyük tek doğal sayı hangisidir?**

- A) 400 789 302
B) 302 400 789
C) 789 400 302
D) 400 302 789

2.



Yukarıdaki temsili bölme işleminde

$$\triangle = \frac{1}{5} \text{ ve } \bullet = \frac{\blacksquare}{15} \text{ olduğuna}$$

göre, \blacksquare 'nin alabileceği en büyük değer kaçtır?

- A) 2 B) 3 C) 4 D) 5

3. Bir kepçenin taşıyabileceği maksimum yük miktarı 3 ton dur.

Buna göre bu kepçe aşağıda belirtilen yüklerden hangisini taşıyamaz?

- A) $\frac{7}{3}$ ton B) $\frac{8}{3}$ ton
C) $\frac{7}{2}$ ton D) $\frac{11}{4}$ ton

4. Ahmet Bey elinde bulunan kutularla beraber en fazla 185 kg. yük taşıyan bir asansöre biniyor. Ahmet Bey 75 kg. ve taşıdığı kutuların her birinin ağırlığı kendi ağırlığının $\frac{4}{15}$ 'i kadar olduğuna göre, **Ahmet Bey kaç kutu ile beraber asansöre binirse aşırı yük uyarı lambası yanar?**

- A) 2 B) 4 C) 6 D) 8

5. Ahmet elindeki kitabı 1. gün 25 sayfa, 2. gün 1. güne göre 35 sayfa daha fazla ve 3. gün ise 1. ve 2. günlerdeki sayfa sayılarının toplamı kadar sayfa kitap okuyarak bitiriyor.

Buna göre Ahmet'in elindeki kitap kaç sayfadır ?

- A) 150 B) 160 C) 170 D) 180

1. **1.** Kapının açılıp kapanması
2. Çivinin duvara çekiçle çakılması
3. Bisikletin pedalının hareketi
3. Salıncağın sallanması

Yukarıdakilerden hangileri kuvvetin döndürme etkisi ile gerçekleşir?

- A) Yalnız **1** B) **1** ve **3**
 C) **2** ve **3** D) **2** ve **4**

2. Az miktarda protein ile beslenen bir kişide ;

- 1.** Büyüme ve gelişmede yetersizlik
2. Hastalıklara dirençsiz olma
3. Yaraların geç iyileşmesi

Durumlarından hangileri gözlenir?

- A) Yalnız **1** B) **1** ve **2**
 C) **2** ve **3** D) **1**, **2** ve **3**

3. **Aşağıdakilerden hangisi maddenin hal değişimi değildir?**

- A) Suyun donması
 B) Suyun buharlaşması
 C) Dondurmanın erimesi
 D) Odunun yanması

- 4 **Aşağıdakilerden hangisi katı maddeler için söylenemez?**

- A) Elle tutulabilirler
 B) Belirli bir hacimleri vardır.
 C) Belirli bir şekilleri vardır.
 D) Buldukları kabın şeklini alırlar.

5.



Bir öğrencinin günlük beslenmesi şu şekildedir:

Sabah : Reçelli ekmek, çay

Öğle : Patatesli börek, kola

Akşam : Pilav, salata

Bu öğrenci gün içinde hangi besinden en çok almıştır?

- A) Yağ B) Protein
 C) Karbonhidrat D) Mineral

1. Türkiye Cumhuriyeti Kimlik Kartında aşağıdaki bilgilerden hangisi yer almaz?

- A) Kan grubu
- B) Baba adı
- C) TC Kimlik No
- D) Doğum yeri

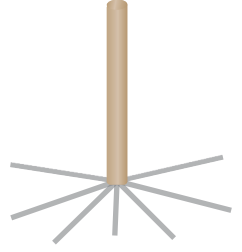
2. Aşağıdakilerden hangisi geçmişte oynanan çocuk oyunlarından biri olamaz?

- A) Beştaş
- B) Topaç
- C) Sek sek
- D) Paintball

3. Aşağıdakilerden hangisi Millî Mücadele'de Güney Cephesi'nde yer alan şehirlerden biri değildir?

- A) Urfa
- B) İzmir
- C) Maraş
- D) Antep

4. Güneş ile yön bulmanın en bilineni çubuk yöntemidir. Çubuk yönteminde güneşli bir günde yere dikilen çubuğun gölgesi izlenir. Öğle vaktinde çubuğun gölge boyu en kısa seviyededir.



Tam bu sırada gölgenin gösterdiği yön aşağıdakilerden hangisidir?

- A) Batı
- B) Doğu
- C) Kuzey
- D) Güney

5.

Her gün televizyonda hava durumu tahminlerini izliyoruz. Bu hava tahminleri ülkemizde..... tarafından yapılıyor. Televizyon kanalları ve diğer basın yayın organları da hava durumu ile ilgili bilgileri bu kurumdan alıyor.

Metindeki boşluğa hangisi yazılmalıdır?

- A) Türkiye İstatistik Kurumu
- B) Meteoroloji Genel Müdürlüğü
- C) Türkiye Radyo ve Televizyon Kurumu
- D) Radyo ve Televizyon Üst Kurulu

1. Sevgili Peygamberimiz (sallallahü aleyhi ve sellem) insanların her konuda güvendiği, sevdiği ve saydığı seçkin bir insandı.

Bu sebeple Mekkeliler ona hangi unvanı vermiştir?

- A) El-Emin B) El-Talip
C) El-Muttalip D) El-Tahir

2.

BİL BAKALIM

Verdim onu, aldım onu
Selamettir başı sonu
Mutluluğun odur yolu
Her çeşidi rahmet dolu.



Görseldeki bilmece nin cevabı aşağıdakilerden hangisidir?

- A) Oruç B) Selam
C) Besmele D) Vahiy

3.

- Her şeyin Allah'ın (c.c.) bilgisi ve dilemesi ile bir ölçüye göre gerçekleştiğine iman etmek.
- Allah'ın (c.c.) insanları doğru yola iletmek için gönderdiği uyarıcılara iman etmek.
- İnsanın ölümüyle başlayıp sonsuza kadar sürecek olan hayatın varlığına iman etmek.

Yukarıdaki hangi inanç esası hakkında bilgi verilmemiştir?

- A) Peygamberlere iman etmek
B) Ahirete iman etmek
C) Allah'a iman etmek
D) Kaza ve kadere iman etmek

4.

İslam dini toplumsal yardımlaşma ve dayanışmaya büyük önem verir. Toplumda huzurlu yaşanabilmesi ve ekonomik dengenin sağlanabilmesi için Yüce Allah bazı ibadetlerle yardımlaşmayı zorunlu tutar. Böylece Müslümanlar hem cimrilik, bencillik gibi kötü duygu ve düşüncelerden arınır hem de Allah'a (c.c.) karşı kulluk görevini yerine getirir.

Verilen metin İslam'ın hangi şartıyla ilgilidir?

- A) Namaz kılmak
B) Oruç tutmak
C) Kurban kesmek
D) Zekât vermek

5.



Görselde verilen kavramlar hangisiyle ilgilidir?

- A) Kur'an-ı Kerim'in iç düzeniyle
B) Hacda yapılması gereken görevlerle
C) İslam'ın şartlarıyla
D) Toplumsal kurallarla

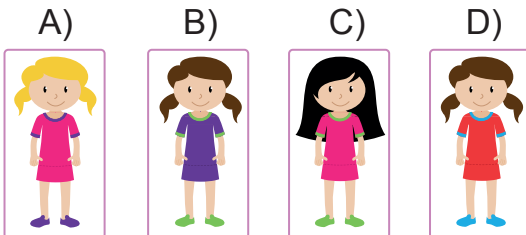
1. Aşağıdaki şıklardan hangisinde İlkbahar mevsiminin ayları doğru verilmiştir?

- A) March-October -November
- B) July -November-December
- C) March - April-May
- D) February -August- September

2. $45 + 37 = ?$

- A) seventy-one
- B) eighty-two
- C) ninety-nine
- D) twenty-seven

3. She has long straight dark hair.



4. Melike is a ----- student.



- A) polite
- B) strong
- C) helpful
- D) hardworking

5. "September-October-November" are months.

(Belirtilen aylar hangi mevsime aittir?)

- A) spring
- B) summer
- C) autumn/fall
- D) winter

ÖRNEK SORU KİTAPÇIĞI-1 CEVAP ANAHTARI

TÜRKÇE	MATEMATİK	FEN BİL.	SOSYAL BİL.	İNGİLİZCE	DİN KÜL.
1.B	1.D	1.B	1.A	1.C	1.A
2.C	2.D	2.D	2.D	2.B	2.B
3.A	3.B	3.D	3.B	3.C	3.C
4.A	4.B	4.D	4.C	4.D	4.D
5.A	5.A	5.C	5.B	5.C	5.A

2020

TARSUS