



MERSİN - TARSUS ASHABI KEHF ANADOLU İMAM HATİP LİSESİ OKULA KABUL SINAVI

ÖRNEK SORU KİTAPÇIĞI - 2

SINAVLA İLGİLİ UYULACAK KURALLAR

1. Cevap kağıdına soru kitapçığı türünü yazmayı unutmayınız.
2. Her soru eşit değerde olup, puanlama yapılırken doğru cevaplarınızın sayısından yanlış cevaplarınızın üçte biri düşülecektir.
3. Sınavda pergel, cetvel, hesap makinesi gibi yardımcı araçlar ve müsvetde kağıt kullanımı yasaktır. Tüm işlemlerinizi soru kitapçığı üzerinde yapacaksınız.
4. Sınav süresince görevlilerle konuşulmayacak ve onlara soru sorulmayacaktır.
5. Dışarıya çıkan aday tekrar sınava alınmayacaktır.
6. Cep telefonu ile sınava girmek yasaktır.
7. Soru kitapçığını sınav sonunda teslim etmeyi unutmayınız.

BAŞARILAR DİLERİZ



1. İyi ile kötü arasında bir anlam ilişkisi vardır. Aşağıdaki renklerden hangileri arasında benzer anlam ilişkisi vardır?

- A) Mavi – Beyaz
- B) Mor – Siyah
- C) Beyaz – Siyah
- D) Kırmızı- Al

2. Çok sevinmek, sevindiği her hâlden belli olmak.
Sıkı bir ilişkiye girmek, birbirinden kopmamak.
İri gövdeli insan.
İçinden çıkılması zor ve anlamsız bir işle uğraşmak.

Dedektif, suçluyu bulmak için onları konuşturmuştur. Çünkü suçlu yukarıdaki cümlelerde anlamları içermeyen bir deyim kullanmaktadır.




Buna göre suçlu sizce aşağıdakilerden hangisidir?

- A)  Ağız kulaklarına varmak
Tolga
- B)  Ağızda bakla ıslanmamak
Hasan
- C)  Çam yarması
Kenan
- D)  Etle tırnak olma
Metem

3.





İnsan, bir şeyi gerçekten isterse başarır. İsteddiği şeyi elde etmek için, ona niyet eder. Kişi niyet ettiği şeyleri elde etmek için de elinden geleni yapar, niyeti gece gündüz demeden çalışmasını, gayret etmesini sağlar. Kişiye çalıştığının karşılığı olduğu için, kazanan kişi çalışkan kişidir.

Ali, Mustafa, Ayşe ve Fatma aralarında tartışmaktadır. Parçanın ana fikri, hangisinin söylediğidir?

- A)  Her insan, her şeyi kazanır.
Ali
- B)  Kişi niyet ettiği şeyleri kazanmalıdır.
Mustafa
- C)  İnsan ister, niyet eder, çalışıp kazanır.
Ayşe
- D)  Çalışkan insan gece gündüz uyuyamaz
Fatma

4. Öğrenciler kitaptan rastgele sayfa açarak, sayfada çıkan atasözlerini okuyorlar. Oyundan elenecek kişi, “Güçleri birleştirerek zor işlerin altından kalkmak” anlamındaki atasözünü açan kişidir.

Aşağıdakilerden hangisi elenmiştir?

- A)  Bir elin nesi var iki elin sesi var
Ecrin
- B)  Bugünkü tavuk yarınki kazdan iyidir
Azra
- C)  Sakla samanı, gelir zamanı
Gülsüm
- D)  Hatasız kul olmaz
Rukiye

5. Çocuklar bilge oynamaktadır. Her bilyenin rengi farklıdır.

- ◆ Birinci bilye sarıdır
- ◆ Beşinci bilye mordur
- ◆ Sekizinci bilye eladır
- ◆ Mavi bilye, mor bilyeden önce, kırmızı bilyeden sonradır
- ◆ Siyah bilye, ela renkli bilyeden önce, beyaz bilyeden sonradır

Yeşil bilye, kaçınıcı sıradadır?

- A) 2 B) 3 C) 4 D) 7

6. **Aşağıdaki cümlelerin hangisinde “çıkmaq” sözcüğü “mezun olmak, meslek sahibi olmak” anlamında kullanılmıştır?**

- A) Hazır olun, az sonra çıkıyoruz.
- B) Usta elektrik direğine çıkıp telleri bağlayacak.
- C) Oğlum, önümüzdeki yıl doktor çıkacak.
- D) Tatlı dil yılanı deliğinden çıkarır.

7. Bilim, sanat, spor, meslek gibi çeşitli alanlarda belli bir kavramı ifade eden/karşılayan sözcüklere terim anlamlı sözcük denir.

Bu açıklamaya göre “açı” kelimesi aşağıdaki cümlelerin hangisinde terim anlamında kullanılmıştır?

- A) Bu olaylara farklı açıdan yaklaşmalıyız.
- B) Hayata hep kendi açımdan bakıyorsun.
- C) Konuya hangi açımdan baktığını anlayamadım.
- D) Öğretmenimizin anlattığı açı konusunu hiç anlamadım.

8. Aşağıdaki cümlelerin hangisinde sayıların yazımı ile ilgili yanlışlık yapılmıştır?

- A) Bu soruları bir haftada çözmeliyim.
- B) Yarışmada 2.inci oldum.
- C) Artık onar onar sayabiliyorum.
- D) Halk koşusuna 12.521 kişi katıldı.

9. Cümleye “eşitlik, gibilik, açıklama, neden-sonuç, abartma, pekiştirme, birliktelik, küçümseme, sitem, şaşma, uyarı, inatlaşma” gibi çok çeşitli anlamlar katar.

Aşağıdaki cümlelerin hangisinde “de” bağlacı cümleye “küçümseme” anlamı katmıştır?

- A) Bu soruyu sen çözeceksin de ben göreceğim.
- B) Onu gruptan çıkarman hiç de iyi olmadı.
- C) Bizimle çarşıya Kerem de gelecekti
- D) Ayşegül de arkadaşı kadar başarılı bir öğrencidir.

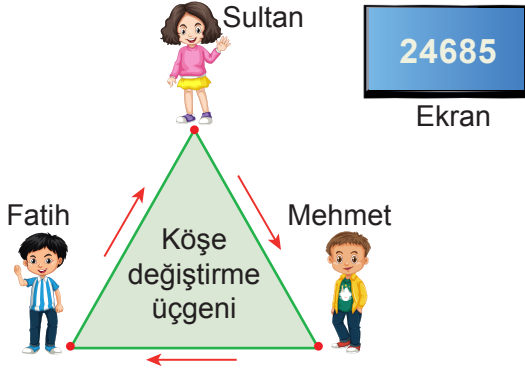
10.

Leyla, şirin mi şirin kaplumbağasını arkadaşı Selin'e göstermek için getirdi. Selin, kaplumbağayı görünce çok şaşırıldı. Çünkü daha önce hiç kaplumbağa görmemişti. Hayat Bilgisi dersinde, kaplumbağayı sevip onunla oynadılar. Selin, çok mutlu olduğunu söyleyerek Leyla'ya teşekkür etti.

Yukarıdaki metne göre hikâye unsurlarından hangisi kullanılmamıştır?

- A) Yer
- B) Olay
- C) Kahraman
- D) Zaman

1.



Yukarıdaki üç arkadaş “Köşe Kapmaca Oyunu” oynayacaklar, oyunun kuralları şu şekilde:

“Üç öğrenci üçgenin köşelerine geçecek ve ekranda yanan beş basamaklı sayının çözümlenmiş halinden bir tanesini söyleyecek eğer söylediği çözümlenme doğru ise ok yönünde üçgen üzerinde ilerleyecektir. Eğer söylenen çözümlenme yanlış ise öğrenci olduğu yerde kalacaktır.”

Ekranı 24685 yandığında öğrencilerin verdiği cevaplar şu şekildedir:

Fatih: “4 tane 1000”

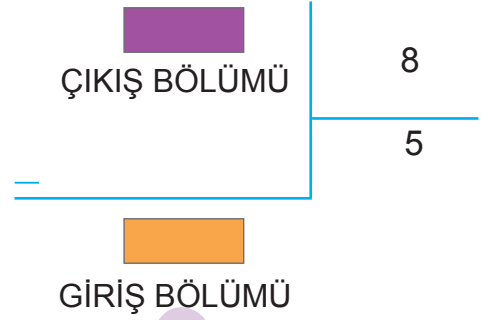
Sultan: “8 tane 100”

Mehmet: “2 tane 10000”

Öğrencilerin verdiği cevaba göre oluşacak ilerlemeler sonucunda köşelerde bulunan öğrencilerin isimleri hangisi olamaz?

- A) Boş
- B) Fatih - Sultan
- C) Mehmet
- D) Mehmet - Sultan

2.

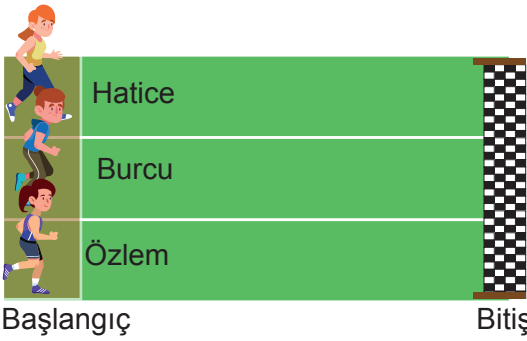


Yukarıda BÖLME İŞLEMİ fabrikasında GİRİŞ bölümünden sayı girişi yapılıyor, ÇIKIŞ bölümünden ürün olarak bir sayı çıkartılıyor. Çıkış bölümünden çıkartılan her ürün farklı renge boyanıp bir torbaya konuluyor.

Giriş yapabileceğimiz tüm sayılar sisteme dahil olduktan sonra torbada kaç farklı renkte sayı olur?

- A) 5
- B) 6
- C) 7
- D) 8

3.

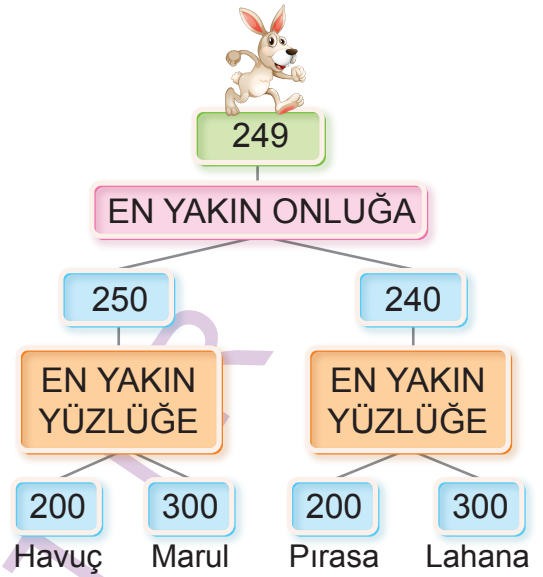


Bir koşu yarışmasında Hatice yolun $\frac{2}{3}$ 'ünü, Burcu yolun $\frac{3}{5}$ 'ini, Özlem ise yolun $\frac{28}{45}$ 'sini koşmuştur.

Buna göre bitiş çizgisine en yakın öğrenciden en uzak öğrenciye sıralama aşağıdakilerden hangisidir?

- A) Hatice - Burcu - Özlem
 B) Hatice - Özlem - Burcu
 C) Burcu - Özlem - Hatice
 D) Özlem - Burcu - Hatice

4.

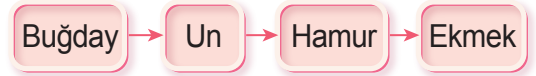


Yukarıdaki tavşan bulunduğu sayıdan başlayarak yuvarlanma kurallarına uygun şekilde hareket edecektir.

Buna göre tavşan yuvarlanmalar sonucunda hangi yiyeceğe ulaşır?

- A) Havuç B) Marul
 C) Pırasa D) Lahana

5.



Bir ekmeğin yapılışı sırasında buğdayın geçtiği aşamalar şekilde gösterilmiştir.

Buğdayın kütleini $\frac{2}{3}$ 'ü kadar un; unun $\frac{6}{5}$ 'sı kadar hamur; hamurun $\frac{3}{4}$ 'ü ağırlığında da ekmek ulaşmaktadır.

Buna göre 300 kg buğdaydan kaç kg ekmek elde edilir?

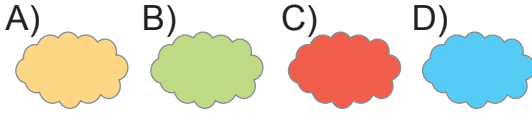
- A) 180 B) 200 C) 240 D) 270

1.

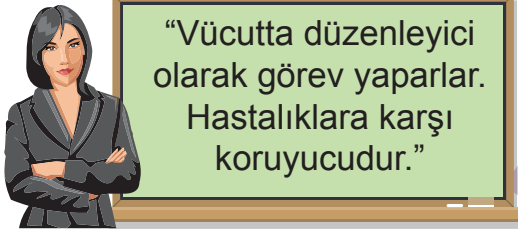


Fen bilimleri dersinde Alper Öğretmen öğrencilerinden mknatsızın çektiği cisimlere örnek vermek istemiştir.

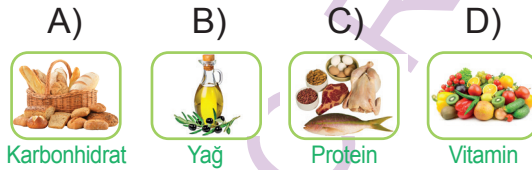
Buna göre öğrenciler hangi bulut-ta yazılı olan örneği kullanamaz?



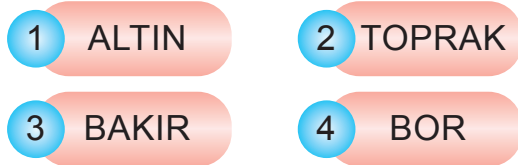
2.



Öğrencilerine besinlerle ilgili yukarıdaki bilgiyi veren Sibel Öğretmen aşağıdaki hangi besin grubundan bahsediyor olabilir?




3.



Yukarıda verilenlerden hangileri madenlere örnek olarak verilebilir?

- A) 1 ve 2 B) 1, 2 ve 3
C) 3 ve 4 D) 1, 3 ve 4

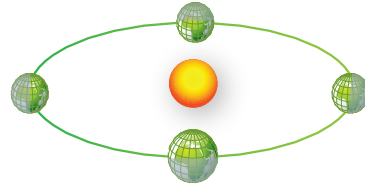
4.



Kuvvet ile ilgili aşağıda verilen bilgilerden hangisi yanlıştır?

- A) Her kuvvet cisimlerin şeklini değiştirebilir.
B) Arabadan inmek için önce kapıya itme kuvveti uygularız.
C) Hareketli bir cismi yavaşlatmak için hareket yönünün tersine doğru kuvvet uygularız.
D) Cisimlere hareket yönünde kuvvet uygularsak hızlanabilir.

5.



Öğretmeni Uğur'dan Dünya'nın hareketleri ile ilgili aşağıda verilen soruların başına doğru ise "D" yanlış ise "Y" harfi koymasını istiyor. Uğur soruları aşağıdaki gibi yanıtlıyor.

D	Dünyamızın dönme ve dolanma olmak üzere iki türlü hareketi vardır.
Y	Dünya dönme hareketini 24 saatte tamamlar.
D	Dünya'nın kendi etrafında dönmesi sonucu gece ve gündüz oluşur.
Y	Dünya'nın kendi etrafındaki dönme hareketi doğudan batıya doğrudur.

Her doğru soru 10 puan olduğuna göre Uğur'un aldığı puan kaçtır?

- A) 10 B) 20 C) 30 D) 40

1. **Kimlik kartımızda yer alan "TC Kimlik Numarası"yla ilgili aşağıdaki bilgilerden hangisi yanlıştır?**

- A) Kimlik kartının sol üst köşesinde yer alır.
- B) Toplam on rakamdan oluşur.
- C) Herkesin TC Kimlik Numarası farklıdır.
- D) Resmî işlemlerde kullanılır.

2. "Bir elin nesi var iki elin sesi var." atasözü aşağıdakilerden hangisiyle ilgilidir?

- A) Birlik ve beraberlik
- B) Sorumluluk
- C) Misafirperverlik
- D) İyilik

3. Ormanlık bir bölgede veya açık arazide yön bulmak için ağaçlardan ve taşlardan yararlanılabilir.

Ağaç gövdelerinin, taşların ve kayaların hangi yöne bakan tarafı genellikle yosunlarla kaplıdır?

- A) Doğu
- B) Güney
- C) Batı
- D) Kuzey

4. Kökleri tarihin derinliklerine uzanan Türk milleti zengin bir kültüre sahiptir.

Buna göre,

- I. Misafire kahve ikram etmek
- II. Dinî bayramlarda büyüklerin elini öpmek
- III. Pizza yemek

hangileri millî kültür öğelerimizdendir?

- A) Yalnız I
- B) I ve II
- C) II ve III
- D) I, II ve III

5.

- I. Çığ
- II. Sel
- III. Deprem
- IV. Heyelan

Verilen doğal afetlerden hangisi ülkemizde en fazla can ve mal kayıplarına neden olan doğal afettir?

- A) I
- B) II
- C) III
- D) IV

1. I. Namaz kılmak
II. Meleklerle inanmak
III. Oruç tutmak
IV. Hacca gitmek
V. Peygamberlere inanmak
- Yukarıda verilenlerden hangileri İslam'ın inanç esaslarındadır?**

- A) II ve V
B) I, III ve IV
C) I, II ve V
D) III ve IV

2. İnsanın ölümüyle başlayıp sonsuza kadar sürecek olan hayatın varlığına iman etmektir. Bu inanç esası sayesinde insan, yaptıkları tüm iyi ve kötü davranışların karşılığını alacağını bilir.

Yukarıda bahsedilen İslam'ın inanç esası aşağıdakilerden hangisidir?

- A) Allah'a iman
B) Ahirete iman
C) Kitaplara iman
D) Kaza ve Kadere iman

3. Yılın belli günlerinde Mekke'de bulunan Kâbe'yi ve etrafındaki kutsal yerleri ibadet amacıyla ziyaret etmektir. Akıllı, sorumluluk çağına gelmiş, sağlıklı ve maddi durumu iyi olan Müslümanların ömründe bir kez bu ibadeti yerine getirmesi Allah (c.c.) tarafından emredilmiştir.

Yukarıda İslam'ın şartlarından hangisi hakkında bilgi verilmektedir?

- A) Kelime-i Şehadet getirmek
B) Oruç tutmak
C) Zekât vermek
D) Hacca gitmek

4. Kur'an-ı Kerim'in her bir cümlesidir. **Yukarıda verilen bilgi Kur'an-ı Kerim ile ilgili kavramlardan hangisidir?**

- A) Mushaf
B) Ayet
C) Sure
D) Cüz

5. **Müslümanların Hz. Muhammed'e (s.a.v.) olan sevgilerini ve saygılarını göstermek için kullandıkları dua ifadelerine ne denir?**

- A) İnşallah
B) Tekbir
C) Besmele
D) Salavat

6. Tekbir, Allah'ın (c.c.) büyüklüğünü tüm varlıkların üstünde tuttuğumuzun ifadesidir. Müslümanlar namaz kılmaya tekbir alarak başlar. Sevinçli veya coşkulu olduğumuz durumlarda tekbir getirerek Allah'ı (c.c.) yüceltiriz. Minarelerden günde beş kez ----- nidalarıyla tekbiri duyururuz.

Bu cümlede boş bırakılan yere aşağıdaki kavramlardan hangisi gelmelidir?

- A) Allahu Ekber
B) Subhanallah
C) Estağfirullah
D) Maşallah

7. Bir insan için sözünde durmak, başkaları hakkında kötü düşüncelerden uzak durmak da bir çeşit temizliktir.

Buna göre yukarıdaki cümlede hangi temizlik türü vurgulanmıştır?

- A) Beden temizliği
B) Maddi temizlik
C) Giysi temizliği
D) Manevi temizlik

1.

What do you do?

I am I work
at a school.





Diyalogdaki boşluğa hangi kelime
gelmelidir?

- A) Doctor B) Teacher
C) Police D) Lawyer

2.

It is sunny and hot now. Wear your
shorts, sun glasses and flip flop.

Yukarıdaki ifadeye hangi görsel-
den bahsedilmemiştir?





- A)  B) 
C)  D) 

3.

Jane: What time is it?

David: It is quarter to four.

Konuşmaya uygun gelen saati
işaretleyiniz.

- A)  B) 
C)  D) 

4.



Monkeys -----
climb trees.

Monkeys ----- climb trees.

Boşluğa uygun gelen ifadeyi
işaretleyiniz.

- A) Can B) Can't
C) Should D) Souldn't

5.



Hello!
My name is Mysara.
I'm from -----
I am ----

Görseldeki boşluğa sırasıyla
hangi ifadeler gelmelidir?

- A) Russia / Russian / Russian
B) Spain / Spanish / Spanish
C) France / French / French
D) Egypt / Egyptian / Arabic



MERSİN - TARSUS
ASHABI KEHF ANADOLU İMAM HATİP LİSESİ
OKULA KABUL SINAVI

ÖRNEK SORU KİTAPÇIĞI - 2

CEVAP ANAHTARI

TÜRKÇE	MATEMATİK	FEN BİLİMLERİ	SOSYAL BİLGİLER
1.C	1.D	1.B	1.B
2.B	2.D	2.D	2.A
3.C	3.B	3.D	3.D
4.A	4.B	4.A	4.B
5.A	5.A	5.C	5.C
6.C	DİN KÜLTÜRÜ VE AHLAK BİLGİSİ		İNGİLİZCE
7.D	1.A	5.D	1.B
8.B	2.B	6.A	2.C
9.A	3.D	7.D	3.D
10.A	4.B		4.A
			5.D



TARSUS'UN PARLAYAN YILDIZI ULUSLARARASI ASHABI KEHF PROJE İMAM HATİP LİSESİ

FİKİRDE ÖZGÜN, İLİMDE ÖNCÜ
AHLÂKTA ÖRNEK

BAŞVURU TARİHLERİ:
25 Mart-10 Mayıs 2023 tarihleri arası

SADECE
60
ÖĞRENCİ

TARSUS'TA SINAVLA ÖĞRENCİ ALAN TEK ORTAOKUL YENİ ÖĞRENCİLERİNİ BEKLİYOR

4. SINIFTAN 5. SINIFA GEÇENLER İÇİN OKULA KABUL SINAVI

- ✓ SEÇKİN ÖĞRETMEN KADROSU
- ✓ MEB KALİTE TAKİP SİSTEMİ
- ✓ ÜST DÜZEY AKADEMİK EĞİTİM
- ✓ KİŞİYE ÖZEL SOSYAL VE KÜLTÜREL FAALİYETLER
- ✓ PROJE TABANLI ÖĞRETİM SÜRECİ
- ✓ YABANCI DİL AĞIRLIKLIL EĞİTİM
- ✓ TÜRKİYE'DE Kİ 14 PROJE OKULUNDAN BİRİ
- ✓ EĞİTİMİ KEYİFLİ HALE GETİREN FİZİKİ ALANLAR
- ✓ SINAVLA SINIRLI SAYIDA KONTENJAN



Başvuru için;
@ uluslararasıashbikehfaihl.meb.k12.tr
📍 Takbaş Mah. Tarsus Üniversitesi Yanı Tarsus/MERSİN
☎ 0 324 625 89 29

SINAV TARİHİ:
20 Mayıs 2023 CUMARTESİ
SINAV SAAT: 10.00